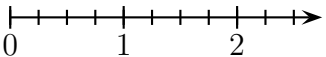


	Énoncé	Réponse	Jury
21)	4×25		
22)	32×25		
23)	Je dois payer 69 centimes. Je paie avec une pièce de 1 €.	On me rend €.	
24)	Complète la suite de nombres.	2,85 - 2,90 - 2,95 - ...	
25)	Entoure la réponse du calcul 400×95	380 000 38 000 3 800	
26)	Place le nombre $\frac{3}{2}$.		
27)	Complète.	0,5 h = min	
28)	$3 \times 0,8$		
29)	Complète.	185 mm = cm	
30)	Complète.	Le reste de la division de 83 par 5 est	

Nom :

Prénom :

Score : /30


Classe :

✓ *Durée : 9 minutes*

✓ *L'épreuve comporte 30 questions.*

✓ *L'usage de la calculatrice et du brouillon sont interdits. Il n'est pas permis d'écrire des calculs intermédiaires.*

Sujet SIXIÈME - mars 2025



La course aux nombres


**MINISTÈRE
 DE L'ÉDUCATION
 NATIONALE,
 DE LA JEUNESSE
 ET DES SPORTS**
*Liberté
 Égalité
 Fraternité*

ACADÉMIE
 DE NORMANDIE

ACADÉMIE
 DE VERSAILLES

ACADÉMIE
 DE REIMS

ACADÉMIE
 DE STRASBOURG

ACADÉMIE
 DE RENNES

ACADÉMIE
 DE NANTES

ACADÉMIE
 DE DIJON

ACADÉMIE
 DE NANCY-METZ

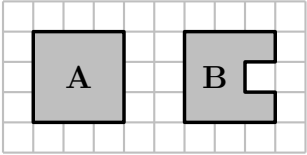
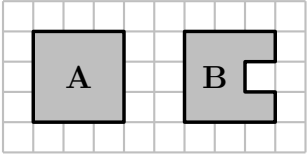
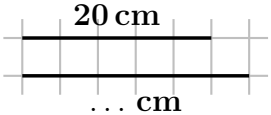
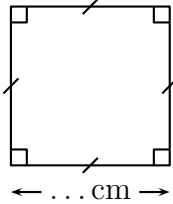
ACADÉMIE
 DE TOULOUSE

ACADÉMIE
 D'ORLÉANS-TOURS

ACADÉMIE
 DE LYON



	Énoncé	Réponse	Jury
1)	$17 + 8$		
2)	Complète.	$8 \times \dots = 32$	
3)	Combien de dizaines dans 5 centaines ?	\dots dizaines	
4)	Écris en chiffres : « mille-vingt-quatre »		
5)	$542 - 11$		
6)	Il est 4h55. Dans une demi-heure, quelle heure sera-t-il ?	\dots h \dots min	
7)	Le double de 16		
8)	Si 2 morceaux de sucre pèsent 10 g, alors	8 morceaux de sucre pèsent \dots g	
9)	Complète.	$1 + \frac{3}{10} = \frac{\dots}{10}$	
10)	Entoure la bonne réponse.	Une voiture peut mesurer 40 cm 4 m 4 km	
11)	100×54 dixièmes est égal à	$\dots\dots$ unités	
12)	Complète.	$1\ 000 = \dots \times \dots$	
13)	Complète.	$75\text{ mm} + 25\text{ mm} = \dots\text{ m}$	

	Énoncé	Réponse	Jury
14)	$4,5 + 7,2 + 5,5$		
15)	Quelle est la figure qui a le plus grand périmètre ? 	Figure \dots	
16)	Quelle est la figure qui a la plus grande aire ? 	Figure \dots	
17)	Complète.		
18)	Le périmètre de ce carré est de 18 cm. Complète.		
19)	Entoure le plus grand nombre.	$\frac{42}{10}$ $\frac{306}{100}$	
20)	Deux tiers de 120 g est égal à	\dots g	